

PREFEITURA MUNICIPAL DE JEQUIÉ - EDITAL Nº 01/2018 - PROCESSO DE REGIME ESPECIAL DE DIREITO ADMINISTRATIVO.

PROVA OBJETIVA.

CARGO: TÉCNICO EM ENFERMAGEM.

Leia atentamente as INSTRUÇÕES:

1. Não é permitido ao candidato realizar a prova usando óculos escuros (exceto para correção visual ou fotofobia, desde que informe no ato da inscrição) ou portando: aparelhos eletrônicos, qualquer tipo de relógio, chaves, acessórios que cubram o rosto, a cabeça, ou parte desta.
2. Caso o candidato porte algum dos itens mencionados anteriormente, antes do início das provas deverá acomodá-lo(s) **EMBAIXO DE SUA CADEIRA**, sob sua guarda e responsabilidade, mantendo o(s) aparelho(s) eletrônico(s) desligado(s), sob pena de ser eliminado deste Concurso Público.
3. Durante todo o tempo em que permanecer no local onde estará ocorrendo o Concurso Público, o candidato deverá manter o celular desligado, sendo permitido ligá-lo somente após ultrapassar o portão de saída do prédio, sob pena de ser eliminado deste Concurso Público.
4. Confira se sua prova tem 30 questões, cada qual 4 alternativas, veja se o cargo para o qual se inscreveu está correto.
5. Confira seus dados no cartão-resposta (nome, número de inscrição e o cargo para o qual se inscreveu) e **ASSINE** o mesmo.
6. Preencha toda a área do cartão-resposta correspondente à alternativa de sua escolha, com caneta esferográfica (tinta azul ou preta), sem ultrapassar as bordas. As marcações duplas, ou rasuradas, com corretivo, ou marcadas diferentemente do modelo estabelecido no cartão-resposta poderão ser anuladas.
7. Observe as orientações apresentadas no cartão-resposta. O mesmo não será substituído, salvo se contiver erro de impressão.
8. Aguarde a autorização do Fiscal para abrir o caderno de provas. Ao receber a ordem dele, confira o caderno de provas com muita atenção. Nenhuma reclamação sobre o total de questões, ou falha de impressão, será aceita depois de iniciada a prova.
9. Cabe apenas ao candidato a interpretação das questões, o fiscal não poderá fazer nenhuma interferência.
10. A prova será realizada com duração máxima de **3 (três) horas**, incluído o tempo para leitura das instruções, realização da Prova Objetiva e o preenchimento do cartão-resposta.
11. O Candidato poderá se retirar do local da prova somente 1 h (uma hora) após seu início, levando seu caderno de prova.
12. Ao término da prova, o candidato deverá entregar ao fiscal de sala o cartão-resposta preenchido e assinado.
13. Os **3 (três)** candidatos, que terminarem a prova por último, deverão permanecer na sala, e só poderão sair juntos após o fechamento do envelope, contendo os cartões-resposta dos candidatos presentes e ausentes, e assinarem no lacre do referido envelope, atestando que este foi devidamente lacrado.
14. Ao término da prova, o candidato deverá se retirar do recinto onde está ocorrendo a mesma, não lhe sendo mais permitido o uso do banheiro e bebedouro.
15. Não será permitido ao candidato fumar nas dependências onde está ocorrendo o concurso.

BOA PROVA!

LÍNGUA PORTUGUESA.

Leia o texto e responda às próximas duas questões.

Mãos dadas (Carlos Drummond de Andrade)

Não serei o poeta de um mundo caduco.
Também não cantarei o mundo futuro.
Estou preso à vida e olho meus companheiros.
Estão taciturnos mas nutrem grandes esperanças.
Entre eles, considero a enorme realidade.
O presente é tão grande, não nos afastemos.
Não nos afastemos muito, vamos de mãos dadas.

Não serei o cantor de uma mulher, de uma história,
Não direi os suspiros ao anoitecer, a paisagem vista da janela,
Não distribuirei entorpecentes ou cartas de suicida,
Não fugirei para as ilhas, nem serei raptado por serafins.
O tempo é a minha matéria, o tempo presente, os homens presentes,
A vida presente.

01. De acordo com o poema, assinale a alternativa incorreta.

- a) O tema da poesia é o compromisso do poeta com o seu tempo e com seus contemporâneos.
- b) Os versos "... olho meus companheiros" e "não nos afastemos muito, vamos de mãos dadas" expressam o comportamento do eu lírico com o coletivo, com o engajamento político e social.
- c) Na segunda estrofe do poema, o eu lírico afirma que a poesia desse momento histórico deve tratar de temas sentimentais e amorosos.
- d) Os versos da primeira estrofe mostram que o desejo do poeta é que sua poesia una os homens e transforme a vida presente.

02. Quanto aos encontros vocálicos, as palavras do poema "poeta / realidade / anoitecer / história" são respectivamente:

- a) Hiato / hiato / ditongo / ditongo.
- b) Ditongo / ditongo / hiato / hiato.
- c) Hiato / ditongo / ditongo / hiato.
- d) Ditongo / hiato / hiato / ditongo.

03. Relacione as duas colunas de acordo com a característica e o período literário e assinale a alternativa correta:

- | | |
|-------------------|---|
| A) Barroco. | 1 - Regionalismo. |
| B) Arcadismo. | 2 - Oposições. |
| C) Simbolismo. | 3 - Bucolismo. |
| D) Romantismo | 4 - Busca da perfeição poética. |
| E) Parnasianismo. | 5 - Condoreirismo. |
| F) Modernismo. | 6 - Introspecção, mergulho nas profundezas do eu. |

- a) A (2) – B (3) – C (6) – D (5) – E (4) – F (1).
- b) A (2) – B (3) – C (1) – D (6) – E (5) – F (4).
- c) A (2) – B (3) – C (5) – D (6) – E (4) – F (1).
- d) A (1) – B (3) – C (2) – D (4) – E (5) – F (6).

04. Na tirinha abaixo, nas orações "Acho que o mundo é redondo." e "Vou levar você a um oculista.", temos:

Hagar



Dik Browne



Folha de S. Paulo

Fonte: <https://www.google.com.br>.

- a) Sujeito expreso e sujeito oculto (ou elíptico).
- b) Sujeito oculto (ou elíptico) e sujeito oculto (ou elíptico).
- c) Sujeito simples e sujeito oculto (ou elíptico).
- d) Sujeito oculto (ou elíptico) e sujeito indeterminado.

05. Quanto à regência verbal, assinale a alternativa incorreta.

- a) Os apreciadores de vinho, aspiram o ar das barricas e se inebriam.
- b) Todos aspiram à paz.
- c) Nós lhe chamamos para conversar.
- d) Queremos bem a eles.

06. Quanto ao uso do sinal de crase, atribua verdadeiro (V) ou falso (F) aos itens e assinale a alternativa correta:

- () Ele se refere àquilo.
 - () Perguntei à senhora onde ela morava.
 - () Usamos sapatos à Luís XV.
 - () À noite fomos ao cinema.
 - () Fui à Ouro Preto dos Inconfidentes.
 - () Saí à uma hora.
 - () Retornamos à mesma estrada.
- a) V – V – F – V – F – F – F.
 - b) V – V – V – V – F – F – V.
 - c) V – V – V – V – F – F – F.
 - d) V – V – V – V – V – V – V.



07.

Fonte: <https://www.google.com.br>.

No cartaz, os verbos “disque”, “defenda” e “denuncie” estão conjugados no:

- a) Presente do Indicativo / Presente do Indicativo / Presente do Indicativo.
- b) Imperativo Afirmativo / Imperativo Afirmativo / Imperativo Afirmativo.
- c) Imperativo Negativo / Imperativo Negativo / Imperativo Negativo.
- d) Pretérito Perfeito / Pretérito Perfeito / Pretérito Perfeito.

08. Leia os itens quanto a não sinalização de crase e assinale a alternativa verdadeira:

- I- Ele anda a pé.
- II- Ela vive a falar asneiras.
- III- Não disse nada a ela.
- IV- Ele venceu de ponta a ponta.
- V- Não avisou a pessoa a cujos documentos encontrou.
- VI- Ele assistiu aquele espetáculo.

- a) Apenas I, II, III, IV e VI estão corretos.
- b) Apenas I, II, IV, V e VI estão corretos.
- c) Apenas I, II, III, IV e V estão corretos.
- d) Todos estão corretos.

09. Aponte a alternativa onde temos uma oração subordinada adjetiva restritiva.

- a) A arte que agrada a todos é muito cara.
- b) As exposições de arte, que encantam os apreciadores, deveriam ser mais divulgadas.
- c) A obra de Portinari, desafiando o tempo, continua atual.
- d) Ele tem amor às plantas, que cultiva com carinho.

10. Leia os fragmentos dos textos de José de Alencar e marque a alternativa incorreta, quanto ao uso, ou não, da vírgula.

- a) Quem te ensinou, guerreiro branco, a linguagem de meus irmãos?
- b) Iracema, a virgem dos lábios de mel, que tinha os olhos mais negros que a asa da graúna.
- c) Um dia ao pino do Sol, ela repousava em um claro da floresta.

d) Foi rápido, como o olhar, o gesto de Iracema.

MATEMÁTICA.

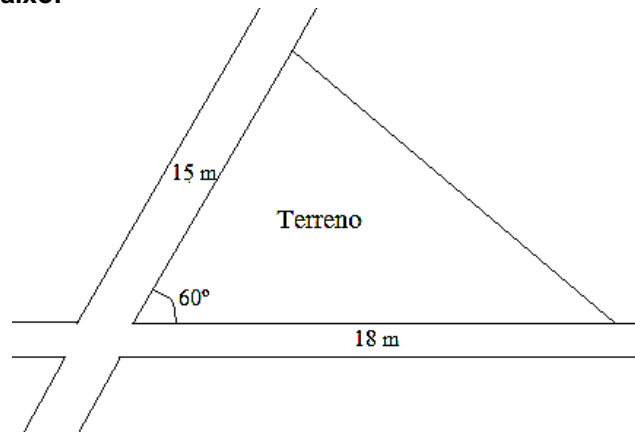
11. Sabendo que $f(x+2) = 3x - 1$, o valor de $3f(2) - f(1)$ é:

- a) -4
- b) -1
- c) 1
- d) 3

12. Sabendo que o número complexo $w = 6 + 2i$ é a soma do número complexo z com o dobro de seu conjugado \bar{z} , o módulo de z é:

- a) $2\sqrt{2}$.
- b) $\sqrt{10}$.
- c) 4.
- d) $2\sqrt{10}$.

13. Maurício possui um terreno triangular em uma determinada esquina de uma cidade no interior da Bahia, conforme a figura abaixo:



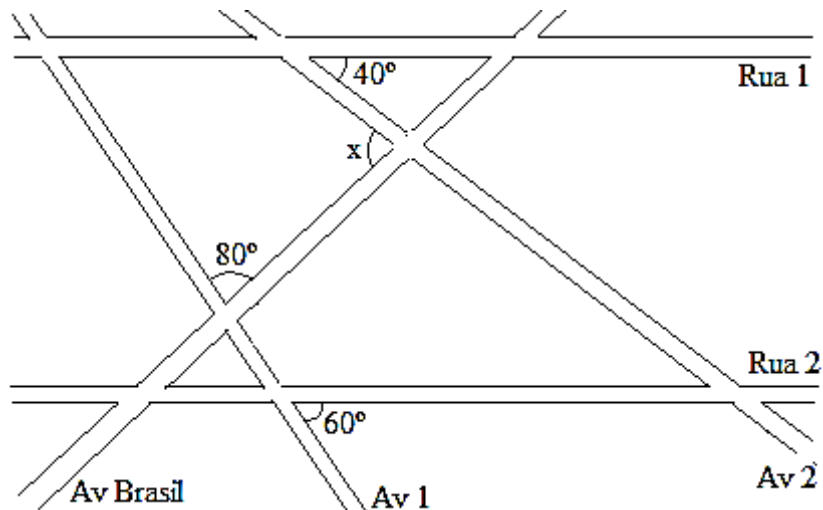
O comprimento do muro que Maurício deve construir para cercar todo o seu terreno é:

- a) 49 m.
- b) $33 + \sqrt{279}$ m.
- c) 50 m.
- d) $33 + \sqrt{292}$ m.

14. Considere a função modular $f(x) = |x^2 - 6x + 5| - 4$. O número de raízes de $f(x)$ é:

- a) 1.
- b) 2.
- c) 3.
- d) 4.

15. O mapa de uma região de uma determinada cidade é dado pela figura abaixo:



Sabe-se que, nesse trecho, as ruas e as avenidas são retilíneas, as Ruas 1 e 2 são paralelas, o menor ângulo entre a Rua 1 e a Avenida 2 é 40° , o menor ângulo entre a Avenida 1 e a Avenida Brasil é 80° e o menor ângulo entre a Rua 2 e a Avenida 1 é 60° . O menor ângulo x entre a Avenida Brasil e a Avenida 2 é:


- a) 50
- b) 60
- c) 70
- d) 80

CONHECIMENTOS GERAIS.

16. Marque a alternativa incorreta, conforme as informações publicadas no site <https://cidades.ibge.gov.br/brasil/ba/jequie/historico> e acessada em 07/08/2018.

- a) Em 1985, foi criado o distrito de Monte Branco (ex-povoado) e anexado ao município de Jequié.
- b) Em 1961, foi criado o município de Oriente Novo, desmembro do município de Jequié.
- c) O Distrito de Jequié foi criado em 1880, subordinado ao município de Maracás.
- d) Em 1990, foi criado o distrito de Florestal (ex-povoado) e anexado ao município de Jequié.

17. Analise as bandeiras a seguir e aponte a que pertence ao estado da Bahia.



18. O Estado da Bahia não faz divisa com qual dos estados a seguir?

- a) Alagoas.
- b) Tocantins.
- c) Espírito Santo.
- d) Pernambuco.

19. Tartaruga marinha é achada morta em Ilhéus e ONG aponta outros 12 casos em uma semana na região no sul da BA.



(Foto: Jamile Borges/Arquivo Pessoal)

Fonte: G1 BA, acessado em 07/08/2018.

Essa notícia informa, exceto:

- a) Segundo o projeto A-Mar, maior parte dos casos ocorreu na cidade de Uruçuca, onde os animais morreram presos em redes de pesca.
- b) Uma tartaruga marinha foi encontrada morta, na manhã desta terça-feira (7), em uma praia de Ilhéus, vítima de intoxicação por poluição.
- c) No litoral de Serra Grande, distrito de Uruçuca, foram registrados 12 casos de tartarugas mortas nos últimos sete dias.
- d) Na região de Uruçuca, há uma área de alimentação das tartarugas da espécie verde.

20. Em 11/05/2018, foi publicada no site <http://www.mdh.gov.br/todas-as-noticias/2018/maio/programa-de-protecao-a-criancas-e-adolescentes-ameaçados-de-morte-e-fortalecido> a seguinte informação: “Programa de Proteção a Crianças e Adolescentes Ameaçados de Morte é fortalecido” pelo Decreto nº 9.371, de 11/5/2018, que reformula as regras de funcionamento do Programa de Proteção a Crianças e Adolescentes Ameaçados de Morte (PPCAAM).

Em conformidade com esse Decreto, atribua (V) verdadeiro ou (F) falso aos itens e aponte a alternativa correta:

- () As medidas e as providências relacionadas com o PPCAAM serão adotadas, executadas e mantidas em sigilo pelos profissionais envolvidos.
 - () O PPCAAM tem por finalidade proteger, em conformidade com o disposto na Lei nº 8.069, de 13 de julho de 1990, crianças e adolescentes expostos a grave e iminente ameaça de morte, quando esgotados os meios convencionais, por meio da prevenção ou da repressão da ameaça.
 - () As ações do PPCAAM poderão ser estendidas a jovens com até vinte e um anos, se egressos do sistema socioeducativo.
 - () A proteção poderá ser estendida aos pais ou responsáveis, ao cônjuge ou companheiro, aos ascendentes, descendentes, dependentes, colaterais e aos que tenham, comprovadamente, convivência habitual com o ameaçado, a fim de preservar a convivência familiar.
- a) V – F – V – V.
 - b) V – V – F – V.
 - c) F – V – V – V.
 - d) V – V – V – V.

CONHECIMENTOS ESPECÍFICOS.

21. Todo adulto com 18 anos de idade, ou mais, quando vier à Unidade Básica de Saúde (UBS) para consulta, atividades educativas, procedimentos, entre outros, e não tiver registro no prontuário de ao menos uma verificação da PA nos últimos dois anos, deverá tê-la verificada e registrada. De acordo com a média dos dois valores pressóricos obtidos, a PA deverá ser novamente verificada, exceto:

- a) A cada dois anos, se PA menor que 120/80 mmHg.
- b) A cada ano, se PA entre 120 – 139/80 – 89 mmHg nas pessoas sem outros fatores de risco para doença cardiovascular.
- c) Em mais dois momentos em um intervalo de 1 – 2 semanas, se PA maior ou igual a 140/90 mmHg ou PA entre 120 – 139/80 – 89 mmHg na presença de outros fatores de risco para doença cardiovascular.
- d) A cada 6 meses, independente do valor inicial.

22. De acordo com os valores pressóricos obtidos no consultório, podemos classificar a pressão arterial em normotensão, PA limítrofe e hipertensão arterial sistêmica. Sendo assim, uma PA de valor 145/95 mmHg é classificada como:

- a) Normal.
- b) Limítrofe.
- c) Hipertensão estágio 1.
- d) Hipertensão estágio 2.

Referente ao texto seguinte, responda às próximas três questões.

O Programa Nacional de Imunização define os calendários de vacinação considerando a situação epidemiológica, o risco, a vulnerabilidade e as especificidades sociais, com orientações específicas para crianças, adolescentes, adultos, gestantes, idosos e povos indígenas. E, para que o programa continue representando um sucesso na saúde pública, cada vez mais esforços devem ser despendidos. Todas as doenças prevenidas pelas vacinas que constam no calendário de vacinação, se não forem alvo de ações prioritárias, podem voltar a se tornar recorrentes.

23. Ao nascer, qual é a única vacina, de dose única, que deve ser administrada?

- a) BCG.
- b) Penta.
- c) Hepatite A.

d) Hepatite B.

24. Qual é a vacina indicada em 3 doses, a depender da situação vacinal, para adolescente, adulto, idoso e gestante?

- a) Hepatite A.
- b) Hepatite B.
- c) HPV.
- d) Dupla Adulto.

25. Quais são as 3 vacinas indicadas para a gestante, a depender da situação vacinal?

- a) Hepatite B, Dupla Adulto e dTpa.
- b) Hepatite A, Dupla Adulto e dTpa.
- c) Hepatite B, HPV e dTpa.
- d) Hepatite A, HPV e dTpa.

26. É a atividade de saúde pública (conceito programático) orientada a identificar precocemente pessoas com tosse por tempo igual ou superior a três semanas (Sintomático Respiratório), consideradas com suspeita, visando à descoberta dos casos bacilíferos.

O enunciado refere-se a:

- a) Diabetes Mellitus.
- b) Hipertensão Arterial.
- c) Tuberculose.
- d) Hanseníase.

27. A alteração da função sudoral (suor), que pode ser percebida pelo achado de áreas secas, que geralmente tornam-se mais evidentes porque não permitem o acumular de poeira como ocorre com pedreiros pelo cimento, marceneiros pela serragem e professores pelo pó de giz, pode ser uma característica de pessoas que são acometidas por:

- a) Diabetes Mellitus.
- b) Hipertensão Arterial.
- c) Tuberculose.
- d) Hanseníase.

28. É aceitável que, antes da colocação de uma via aérea avançada (via aérea supraglótica ou tubo traqueal), a equipe de Serviço Médico Especializado (SME) aplique RCP com ciclos de 30 compressões e 2 ventilações. Pode ser adequado para a equipe de SME usar uma frequência de 10 ventilações por minuto para aplicar ventilação assíncrona durante compressões torácicas contínuas antes da colocação de uma via aérea avançada. Essas ventilações devem ser realizadas a cada:

- a) 1 segundo.
- b) 3 segundos.
- c) 6 segundos.
- d) 10 segundos.

29. Um bebê de 8 meses em parada cardiorrespiratória, sem via aérea avançada, deve receber suporte básico de vida, com a relação compressão-ventilação, corretamente, como descrito na alternativa:

- a) 15:2 com 1 socorrista.
- b) 15:5 com 1 socorrista.
- c) 30:2 com 1 socorrista.
- d) 30:5 com 1 socorrista.

30. Durante o procedimento de compressões torácicas, na parada cardiorrespiratória, o posicionamento de uma das mãos, sobre a metade inferior do esterno, é indicado para:

- a) Adultos, somente.
- b) Adultos e adolescentes.
- c) Crianças muito pequenas.
- d) Bebês menores de 1 ano.

RASCUNHO.